

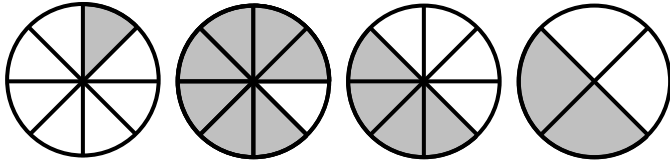
EXERCICE 2.1

Pour chaque figure, indiquer la fraction de la surface totale qui est colorée :



Erreur !


.....
.....




.....
.....

EXERCICE 2.2

Pour chaque figure, indiquer la fraction de la surface totale qui est colorée :



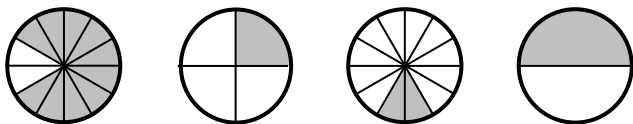
Erreur ! Erreur ! Erreur !



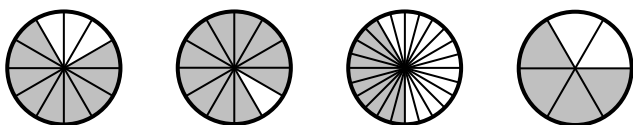
Erreur ! Erreur ! Erreur !

EXERCICE 2.3

Pour chaque figure, indiquer la fraction de la surface totale qui est colorée :



Erreur ! Erreur ! Erreur ! Erreur !



Erreur ! Erreur ! Erreur ! Erreur !

EXERCICE 2.3

Écrire en chiffres les nombres suivants :

- a. Sept dixièmes : **Erreur !**
- b. Trente-cinq centièmes : **Erreur !**
- c. Quatorze millièmes : **Erreur !**
- d. Neuf demis : **Erreur !**
- e. Un tiers : **Erreur !**
- f. Six quarts : **Erreur !**
- g. Cinq huitièmes : **Erreur !**
- h. Vingt-sept dix-septièmes : **Erreur !**
- i. Vingt-cinq centièmes : **Erreur !**
- j. Vingt cinq-centièmes : **Erreur !**

EXERCICE 2.4

Écrire en lettres les nombres suivants :

- a. **Erreur !** :
- b. **Erreur !** :
- c. **Erreur !** :
- d. **Erreur !** :
- e. **Erreur !** :
- f. **Erreur !** :
- g. **Erreur !** :
- h. **Erreur !** :
- i. **Erreur !** :
- j. **Erreur !** :