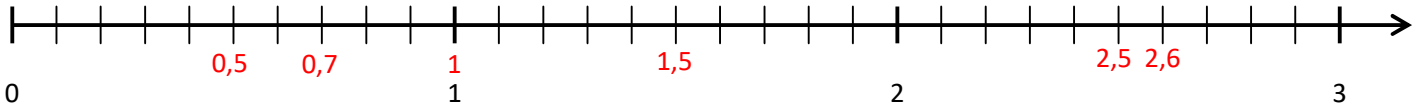
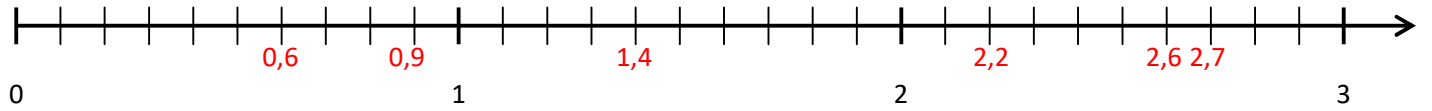


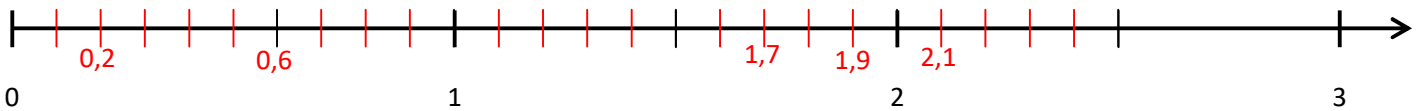
a. Place sur l'axe gradué les nombres : 0.5 ; 1.5; 2.5; 1 ; 2.6 ; 0.7 :



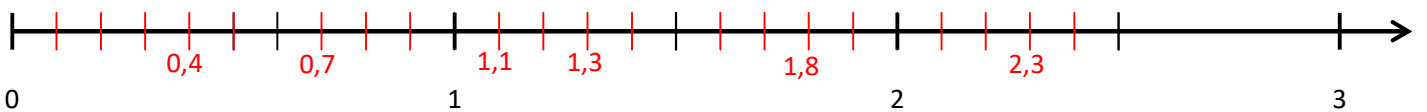
b. Place sur l'axe gradué les nombres : 0.6 ; 2.7; 2.6; 1.4 ; 2.2 ; 0.9 :



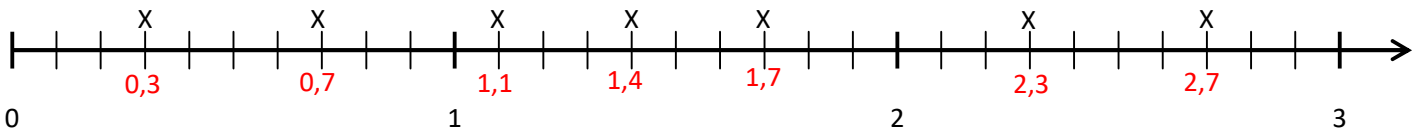
c. Place sur l'axe gradué les nombres : 0.2 ; 2.1; 1.9; 1.7 ; 0.6 ; 1.7 :



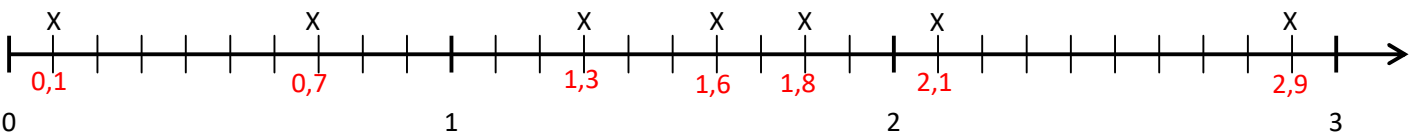
d. Place sur l'axe gradué les nombres : 1.8 ; 1.1 ; 0.7; 1.3 ; 2.3 ; 0.4 :



e. Donne les valeurs des X :



f. Donne les valeurs des X :



g. Donne les valeurs des X :

