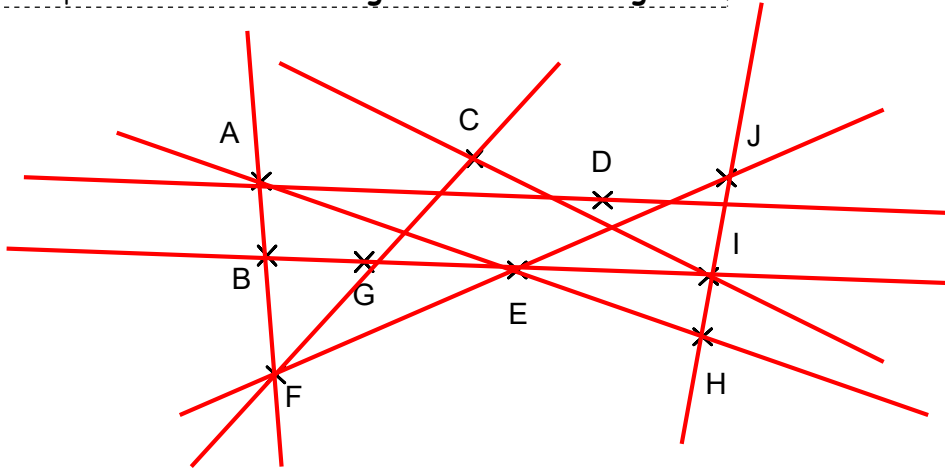


Entraînement 1 : Complète avec les mots : **alignés** ou **non alignés**

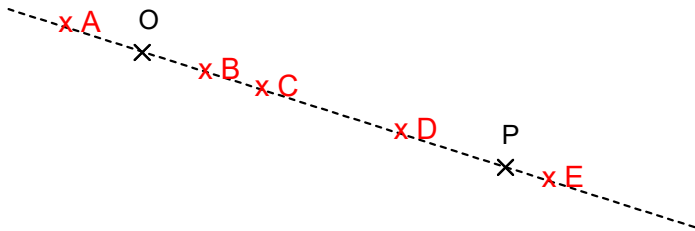


Les points A , B , F sont des points **alignés**
 Les points C , D , I sont des points **non alignés**
 Les points F , E , J sont des points **alignés**
 Les points F , E , D sont des points **non alignés**
 Les points I , H , J sont des points **alignés**

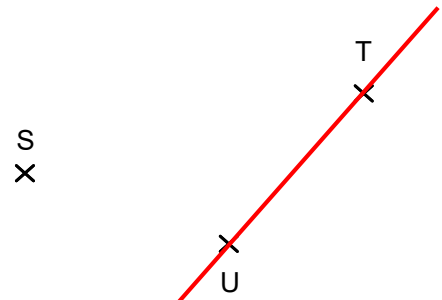
Les points A , G , E sont des points **non alignés**
 Les points E , H , A sont des points **alignés**
 Les points A , C , D sont des points **non alignés**
 Les points E , G , I sont des points **alignés**
 Les points C , G , F sont des points **non alignés**

Entraînement 2

Construis 5 points qui sont alignés avec les points O et P. **C'est une possibilité**



Construis tous les points qui sont alignés avec les points : U et T.



Entraînement 3

- Construis tous les points qui sont alignés avec les points :
W et B. **Droite (WB)**
- Construis tous les points qui sont alignés avec les points :
Y et A. **Droite (YA)**
- Construis tous les points qui sont alignés avec les points :
A et V. **Droite (AV)**
- Place le point qui est aligné avec les points W et B et les points Z et Y. Appelle ce point M.

