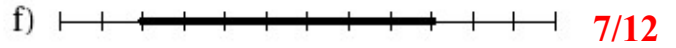
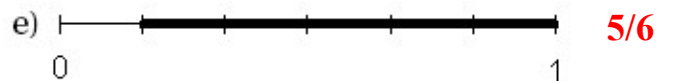

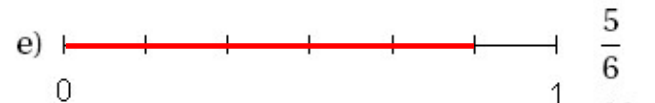
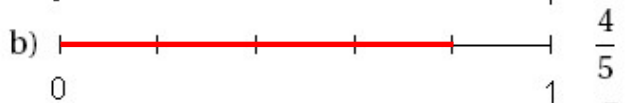


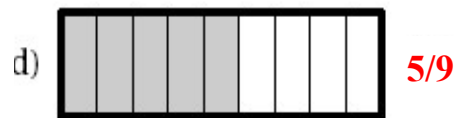
Entraînement 1 Quelle fraction de longueur représente la partie en noire



Entraînement 2 Représente en noire la fraction de la longueur donnée à droite



Entraînement 3 Quelle fraction représente la partie en gris



Entraînement 4 Représente en noire la fraction donnée à droite

